

Savoir Mesurer

Les unités conventionnelles de longueur : le millimètre.


10 GRAM


1. ✨ Pour chaque trait proposé, sans utiliser la règle, coche la mesure qui te semble correcte parmi celles qui te sont données.



a)  15,4 cm
80 mm
5,4 cm

b)  28 cm 2,8 dm
28 dm 28 mm


c)  1,03 m 1,3 cm
10,3 cm 103 mm


d)  3,2 dm 30,2 cm
32 mm 3,002 m


e)  9 cm 1,1 mm 1,1 dm
0,9 cm 0,9 dm

f)  0,85 mm 0,85 dm
0,85 cm 0,85 m

g)  6,1 mm 6,1 m
61 mm 61 cm

h)  0,5 mm 50 cm
50 dm 5 mm

i)  30,5 dm 3,05 cm
0,305 m 3,05 mm

j)  44 dm 0,44 dm
4,4 dm 44 cm